



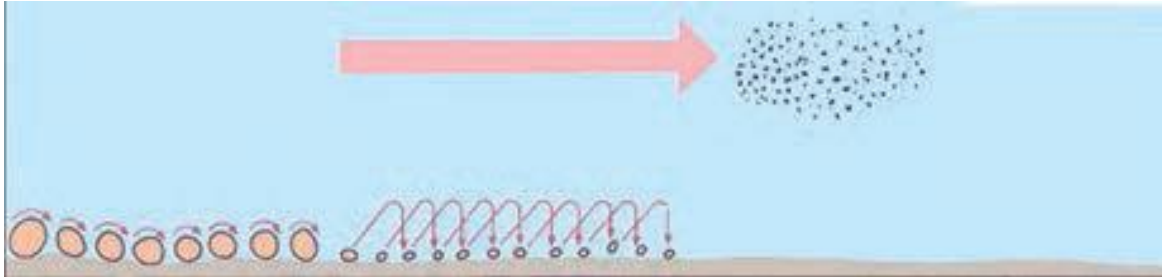




بسمه تعالی

<p>نمره با عدد: نمره با حروف: نام دبیر: مرجان پویان امضاء تجدیدنظر:</p>	<p>اداره کل آموزش و پرورش استان اصفهان مدیریت آموزش و پرورش شهرستان اردستان دبیرستان دخترانه ابن سینا پایه : یازدهم رشته: علوم انسانی تاریخ امتحان: ۱۳۹۶/۹/۲۵ مدت امتحان: ۴۰ دقیقه نام و نام خانوادگی: نام امتحان: جغرافی ۲</p>
<p>بارم ۱/۵</p>	<p>ردیف ۱</p> <p>امام رضاع) فرمودند: دوست هر کس عقل او، دشمنش جهل اوست. صحیح و غلط بودن جملات زیر را مشخص کنید: الف) هوازدگی و فرسایش به تنهایی موجب تغییرات شیمیایی در سنگ ها می شوند. ب) تشکیل یاردانگ در نتیجه فرسایش بادی و آبی هستند. ج) احتمال می رود تمرکز جمعیت در نواحی ساحلی در آینده بیشتر شود. د) ایجاد حوضچه های ذخیره و جمع آوری آب دیکی از راهکارهای حفاظت از مناطق بیابانی است. ل) دامنه های کوه آلپ کمترین تمرکز جمعیت را در بین نواحی کوهستان جهان دارد. ن) بیابان زایی یک از نگرانی های جوامع امروز است.</p>
<p>۲</p>	<p>۲ گزینه ی صحیح را علامت بزنید . ۱- دره های V شکل بر اثر کدام نوع فرسایش و در چه نواحی بوجود می آیند؟ الف) بادی- کوهستان (ب) بادی- بیابان (ج) آبی- کوهستان (د) یخچال- کوهستان ۲- برجسته ترین کلوت ها در..... بیابان لوت در منطقه..... در استان..... وجود دارد. الف) شرق- منطقه شهداد- کرمان (ب) شمال شرق -بافق- یزد ج) غرب- منطقه شهداد- کرمان (د) غرب- منطقه شهداد- سیستان و بلوچستان ۳- یکی از انواع تپه های ماسه ای ..... است . الف) یاردانگ (ب) گرز دیو (ج) برخان (د) رگ ۴- کدام گزینه از شرایط نامناسب برای سکونت و فعالیت انسان در بیابان است؟ الف) سرما یا گرمای شدید (ب) کمبود آب و خاک برای کشاورزی ج) حرکت ماسه های روان (د) فرسایش خاک ۵- کدام یک از محدودیت های نواحی کوهستانی نمی باشند؟ الف) شیب زمین و محدودیت خاک (ب) مشکل بودن احداث راه ج) قرار گیری در کمربند اشفشان های فعال (د) تنوع زیستی و فرهنگی ۶- در ارتباط با گودی کدام گزینه صحیح است؟ الف) ژئومور فولو ژبست (ب) جغرافیدان زیستی (ج) جغرافیدان طبیعی (د) جغرافیدان انسانی ۷- کدام بخش زنده بوم سازگان را تشکیل می دهد؟ الف) تجزیه کنندگان- گوشت خوران (ب) مصرف کننده- دما (ج) سنگ- قارچ (د) نور خورشید- آب و هوا ۸- به ترتیب معادن بوکسیت و فسفات در کدام بیابان های زیر قرار دارد؟ الف) صحرای آفریقا- کالاهاری (ب) آتاکاما- عربستان (ج) استرالیا- صحرای بزرگ آفریقا (د) استرالیا- عربستان</p>
<p>۱/۵</p>	<p>۳ جاهای خالی را با کلمات مناسب پر کنید. ۱- زیست بوم ها در رشته جغرافیای ..... مطالعه و بررسی می شود. ۲- کوهستان ها..... حیات وحش اند و تنوع زیستی و گیاهی خاص خود را دارند.. ۳- دو عامل مهم فرسایش در کوهستان ها ، آب های جاری و ..... می باشد.</p>

بارم	<p>۴- رشد ریشه درختان و موربانه ها باعث تغییرات ..... در سنگ ها می شوند.</p> <p>۵- تنوع زیستی سواحل در اثر ..... و ..... در معرض خطر قرار گرفته است.</p>	ردیف
۲	<p>نام اشکال فرسایشی را در هر شکل مشخص کنید و نوع فرسایش آن را نیز مشخص کنید.</p>    	۴
۰/۷۵	<p>سرعت هوازگی به چه عواملی بستگی دارد؟</p>	۵
۱/۲۵	<p>شکل مقابل بیانگر کدام عامل فرسایشی است. اشکال آن را با توجه به شکل مشخص کنید.</p> 	۶
۱/۵	<p>اشکال کارستی در کدام ناحیه ایران بیشتر دیده می شود؟ نام دو منطقه در آن ناحیه را که از این اشکال است بنویسید.</p>	۷

۳/۵	<p>با توجه به نقشه زیست بوم ها به سوالات داده شده پاسخ دهید.  الف) نام زیست بوم با علامت c و d  ب) مقایسه زیست بوم های a, b در میزان تولید Npp به همراه علت تفاوت  ج) محدوده زیست بوم بیشه زار و مراتع مدیترانه ای با علامت ***** مشخص سازید  د) تفاوت درختان و جنگل های زیست بوم با علامت N, M</p> 	۸
۱/۵	<p>رابطه پوشش گیاهی با ارتفاع و شیب را مورد بررسی قرار دهید.</p>	۹
۳	<p>چهار مورد از عوامل شکل گیری ناحیه زیستی زیر را بنویسید. و دو راهکار پیشگیری ان را نیز بنویسید.</p> 	۱۰
۰/۵	<p>کدام قابلیت محیطی در هر سه محیط ساحل، بیابان و کوهستان وجود دارد؟</p>	۱۱
۱	<p>امروزه چه عواملی مشکلات فراوانی برای نواحی کوهستانی به وجود آورده است. (۴مورد)</p>	۱۲

--	--	--